

**ARMY PUBLIC SCHOOL GWALIOR**  
**CLASS - IV**  
**ACADEMIC SESSION 2023-24**  
**REVISION WORKSHEET (SELF –ASSESSMENT)**

**Subject: English**

**Assignment No. : 4**

**Allotment Date: 12 September 2023**

S. NO.	QUESTIONS	MARKS	NATURE
1	<p>Read the following poem and answer the questions given below:</p> <p>“A tree that looks at God all day, And lifts her leafy arms to pray; A tree that may in summer wear A nest of robins in her hair; Upon whose bosom snow has lain; Who intimately lives with rain. Poems are made by fools like me, But only God can make a tree.”</p> <p>(1) Tick the correct answer of the following questions.</p> <p>a) When does the tree wear nest of robins?</p> <p>i). Summer ii). Winter iii) Spring</p> <p>(b) Who can make a tree?</p> <p>i)No one ii) God iii) Poet</p> <p>(2) Find the opposites of the following words from the passage:</p> <p>a) clever: _____ b) closely: _____</p> <p>(3) From the above lines of the poem, find out the rhyming words of:</p>	8 marks	Reading and understanding

	(a) day _____ (b) lain _____		
	(4) Answer the following questions: (a) Who looks at God all day? (b) Why does the tree lifts her arms?		
<b>2</b>	<p><b>Choose the correct option for the following questions:</b></p> <p>(1) How Elias treat the visitors who came to meet him?</p> <p>a) Behaved rudely b) Welcomed them c) Neglected them</p> <p>(2) Whom did the visitor first meet after landing on the Earth?</p> <p>a) Philosopher b) Cows c) Trees</p> <p>(3) An oak tree lives for _____ years.</p> <p>a) five hundred b) four hundred c) three hundred</p>	<b>3 marks</b>	<b>Understanding and analytical skill</b>
<b>3</b>	<p>Answer the following questions with reference to the context:</p> <p>“These are only vegetables”, said the philosopher. “They are alive, but not at all interesting.”</p> <p>Answer the following question on the basis of above lines:</p> <p>a) Who said these words and to whom? b) Who are “they”? c) Were “they” alive?</p>	<b>3 marks</b>	<b>HOTS</b>

4	<p><b>Answer the following questions in short:</b></p> <p>i) What did the little boy make with the branches of the tree? Ans. _____ _____</p> <p>ii) What theory did the philosopher promise to explain to the visitor? Ans. _____ _____</p> <p>(iii) Who would bring the poet's boat ashore? Ans. _____ _____</p> <p>State whether the sentences are True or False:</p>	3 marks	Evaluation
5	<p>a) The King went to the Dragon Mountain all alone. b) The Queen asked the King to get the treasure.</p>	2 marks	Critical thinking
6	<p><b>GRAMMAR</b></p> <p>Fill in the blanks by choosing the correct options given from the brackets:</p> <p>i) I want _____ (tell) you a secret. (tell / telling /to tell) ii) He reads very _____ (carefully /sourly /thankfully) iii) A rose _____ nice. (smell / smelling / smells) iv) The dress is the----- in the whole shop (prettier / prettiest / pretty) v) _____ boy is always late. (these /those /this) vi) _____ is an example of uncountable noun. (milk /table /balloons)</p>	6 marks	Interdisciplinary understanding
7	<p>Answer the following questions in one word:</p> <p>i) Nouns are also called _____ words. ii) One example of Adverb of manner is _____ iii) Laughing, dancing, eating are examples of _____</p>	3 marks	
8	<p>Answer the following questions in short:</p> <p>i) What are verbs? ii) Write down the feminine gender of "lord"</p>	2 marks	
9	<p>State the following statements as True or False:</p> <p>i) Article" an" is used for consonant. ii) Words used in place of nouns are called pronouns.</p>	2 marks	Communication skills
10	<p><b>Write an application to the principal asking him for a week leave as you are not well:</b></p> <p>_____</p>	4 marks	






**ARMY PUBLIC SCHOOL GWALIOR**  
**CLASS - IV**  
**ACADEMIC SESSION 2023-24**  
**REVISION WORKSHEET (SELF –ASSESSMENT)**

**Subject: Hindi**

**Assignment No. : 4**

**Allotment Date: 12 September 2023**

क्र.सं.	प्रश्न	अंक
1.	<p>पंद्रह वर्ष से कम आयु के बच्चे से किसी भी तरह के रोजगार करवाने को बाल मजदूरी कहा जाता है। एक बच्चे को आम तौर पर तब माना जाता है जब वह पंद्रह वर्ष या उससे अधिक का हो जाता है। इस आयु सीमा से कम के बच्चों को किसी भी प्रकार के जबरन रोजगार में संलग्न होने की अनुमति नहीं है। बाल श्रम बच्चों को सामान्य परवरिश का अनुभव करने, गुणवत्तापूर्ण शिक्षा प्राप्त करने और उनके शारीरिक और भावनात्मक विकास में बाधा के रूप में देखा जाता है। हालाँकि यह कुछ देशों में प्रतिबंधित है, फिर भी इसे पूरी तरह से समाप्त करने में अब तक सफलता नहीं मिल पाई है। बच्चों का इस तरह से रोजगार करना जो उन्हें बचपन का आनंद लेने, शिक्षा प्राप्त करने या व्यक्तिगत विकास का अनुभव करने के अवसर से वंचित करता है, बाल श्रम के रूप में जाना जाता है। यदि कोई व्यक्ति या संगठन बाल श्रम में लिप्त पाया जाता है, तो उनके विरुद्ध बाल श्रम के लिए बने कड़े कानूनों के अंतर्गत कार्यवाही का प्रावधान है, बाल श्रम के खिलाफ भारत जैसे कई देशों में कारावास और जुर्माने के मानक निर्धारित हैं।</p> <p>(क) निम्नलिखित प्रश्नों के उत्तर एक शब्द में दें -</p> <ol style="list-style-type: none"><li>1. यह गद्यांश किस के बारे में है?</li><li>2. आपके अनुसार, बाल मजदूरी उचित है या अनुचित?</li></ol> <p>(ख) (क) रिक्तस्थानों की पूर्ति करें -</p> <ol style="list-style-type: none"><li>1. बाल श्रम के खिलाफ भारत जैसे कई देशों में.....और जुर्माने के मानक निर्धारित हैं।</li><li>2. हालाँकि यह कुछ देशों में..... है, फिर भी इसे पूरी तरह से समाप्त करने में अब तक सफलता नहीं मिल पाई है।</li></ol>	4
2	<p>आसमान में उड़ी पतंग। खुली हवा में लहराती, उड़-उड़कर चली पतंग। इसको काटे, उसको काटे पेंच लड़ाती चली पतंग। मचल मचल कर इठलाती, पूँछ हिलाती चली पतंग।</p> <p>(</p> <p>(i) निम्नलिखित प्रश्नों के उत्तर एक वाक्य में लिखें- (3x1=3)</p> <p>(क) उपरोक्त पद्यांश का उचित शीर्षक लिखिए ?</p> <p>(ख) पतंग कहाँ उड़ रही है ?</p> <p>(ग) पतंग मचल - मचल कर क्या करती है?</p> <p>(ii) निम्नलिखित पंक्ति को उचित शब्दों द्वारा पूरा करें। (1 x1=1)</p> <p>इसको ..... , उसको काटे ..... लड़ाती चली पतंग।</p>	1x4=4

<p>प्र.3.</p>	<p>(खंड 'ख' रचनात्मक लेखन)</p> <p>कक्षा में कुर्सी टूट जाने पर क्षमा मांगते हुए प्रधानाचार्य को पत्र लिखें-</p>	<p>4</p>
<p>प्र 4.</p>	<p>नीचे दिए गए चित्र का वर्णन छह वाक्यों में करें -</p> 	<p>3</p>
<p>प्र5.</p> <p>प्र 6</p>	<p>विद्यालय में खाने का डिब्बा खो जाने पर सूचना लिखिए।</p> <p>सही विकल्प चुनकर लिखें-</p> <p>क) लिखित भाषा का उदाहरण है</p> <p>i) पत्र लेखन ii) समाचार वाचन iii) संवाद</p> <p>ख) भाषा के रूप माने जाते हैं -</p>	<p>2</p> <p>2</p>

<p>प्र7</p>	<p>i) चार ii) दो iii) तीन  ग) सुनार का स्त्रीलिंग है  i) सुनारिन ii) सोनार iii) शोनाहीं  घ) गुड़िया ' का बहुवचन है -  i) गुड़िया ii) गुड़ीयाए iii) गुड़ियां</p> <p>उचित शब्द लिखकर खाली स्थान भरें-  क) हम ----- के द्वारा अपने विचार एक दूसरे तक पहुंचाते हैं।  ख) हिंदी हमारी ----- है और ----- भी मानी जाती है।  ग) _____ भाषा के शुद्ध रूप का ज्ञान कराता है।  घ) वर्णों के समूह को _____ कहते हैं।  ङ) ----- भाषा के शुद्ध रूप का ज्ञान करता है।  च) जंगल में ----- घास लगी है। (विशेषण शब्द)</p> <p>इन शब्दों के वर्णों को अलग अलग करके लिखें -(वर्ण -विच्छेद)  (क) जन्म  (ख) परिवार</p>	<p>3</p>
<p>प्र8.</p>		<p>1</p>
<p>प्र9</p>	<p>निम्नलिखित वाक्य में संज्ञा शब्द रेखांकित करें -  क) आगरा में ताजमहल है।  अनुस्वार लगाकर शब्द को शुद्ध करो --</p>	<p>1</p>
<p>प्र10</p>	<p>क) चादनी _____</p>	<p>1</p>
<p>प्र11</p>	<p>निम्न शब्दों से भाववाचक संज्ञा बनाकर लिखें -  क) सफल _____  ख) बुरा _____</p>	<p>1</p>
<p>प्र12</p>	<p>सही सर्वनाम लिखकर वाक्य पूरे करें-  क) बाहर----आया है ?  (ख) भाग---- लाई है ?</p>	<p>1</p>
<p>प्र13</p>	<p>.निम्नलिखित शब्दों की विशेषता बताते हुए वाक्य प्रयोग करें -  (क) तिरंगा  (ख) भारत</p>	<p>1</p>

(खण्ड 'ख' -पाठ्यपुस्तक)		
प्र14	<p>प्र 14. निम्नलिखित शब्दों के अर्थ लिखें -</p> <p>क)साहस -----</p> <p>ख) तनिक -----</p> <p>ग) सहपाठी -----</p> <p>घ) रेला -----</p>	2
प्र15	<p>निम्नलिखित प्रश्नों के उत्तर लिखें -</p> <p>(क) हरा रंग कहां-कहां दिखाई देता है ? इसमें क्या छुपा है ?</p> <p>(ख) बच्चे नई राह कैसे बनाएंगे ?</p> <p>(ग) अमीना का क्रोध खेह में क्यों बदल गया ?</p> <p>घ) शिकागो की सभा में तालियां क्यों गूँज उठी ?</p> <p>ङ) चंद्रमा के आने से आकाश का रूप कैसा हो जाता है ?</p> <p>च) बचेंद्री एवरेस्ट की चोटी पर कब और किस समय पहुँची ?</p> <p>कविता की इन पंक्तियों को पूरा करो-</p> <p>चींटी ने आंखें ----- ,बोली धन्यवाद। ,</p> <p>प्राण ----- तुमने मेरे सदा रखूंगी याद।</p>	6
प्र16	<p>कविता की इन पंक्तियों को पूरा करो-</p> <p>चींटी ने आंखें ----- ,बोली धन्यवाद। ,</p> <p>प्राण ----- तुमने मेरे सदा रखूंगी याद।</p>	1
17.	<p>प्रत्येक के लिए दो -दो पर्यायवाची शब्द लिखो -</p> <p>क)हाथी -----, -----</p> <p>ख) राजा-----, -----</p>	1
18.	<p>निम्न शब्दों के लिए समानार्थक शब्द लिखें -</p> <p>क) फूल -----</p> <p>ख) तूफ़ान -----</p>	1
19	<p>मूल्यपरक प्रश्न-</p> <p>क) देश की सेवा के लिए हमें क्या -क्या करना चाहिए ?</p>	1





**ARMY PUBLIC SCHOOL GWALIOR**  
**CLASS - IV**  
**ACADEMIC SESSION 2023-24**  
**REVISION WORKSHEET (SELF –ASSESSMENT)**

**Subject: Mathematics**

**Assignment No. : 4**

**Allotment Date: 12 September 2023**

S. NO.	QUESTIONS	MARKS	NATURE										
1	Fill in the blanks: (a) There are _____ place values in a six-digit number. (b) The product of a number and 0 is always _____. (c) When a number is divided by _____, the answer is the number itself. (d) _____ is the only even prime number.	4×1 = 4	Observation										
2	True and False: (a) The Roman numeral symbol for the number zero is 0. _____ (b) The sum of place values of 5 in 585635 is 505005. _____ (c) $614 \times 12 = 7048$ _____ (d) Is 16 a factor of 256? _____	4×1 = 4	Mental Ability										
3	Match the following: <table style="width: 100%; border: none;"><tr><td style="text-align: center;">Coloumn A</td><td style="text-align: center;">Coloumn B</td></tr><tr><td>(a) xxvi</td><td>(i) 48157</td></tr><tr><td>(b) <math>48156 + 1</math></td><td>(ii) 26</td></tr><tr><td>(c) 400 less than 9867</td><td>(iii) 15</td></tr><tr><td>(d) HCF of 30 and 45</td><td>(iv) 9467</td></tr></table>	Coloumn A	Coloumn B	(a) xxvi	(i) 48157	(b) $48156 + 1$	(ii) 26	(c) 400 less than 9867	(iii) 15	(d) HCF of 30 and 45	(iv) 9467	4×1 = 4	Decision Making
Coloumn A	Coloumn B												
(a) xxvi	(i) 48157												
(b) $48156 + 1$	(ii) 26												
(c) 400 less than 9867	(iii) 15												
(d) HCF of 30 and 45	(iv) 9467												
4	Multiple Choice Questions: (a) The successor of 360039 is (i) 360039            (ii) 360040            (iii) 360038 (b) 14 thousands + 16 hundreds + 5 ones = _____ (i) 14605            (ii) 15605            (iii) 15565 (c) The difference between the place values of 4 in 24987 and 450000 is _____ (i) 380000            (ii) 396000            (iii) 405013 (d) The unit fraction among the following is: (i) $1/2$ (ii) $5/8$ (iii) $7/8$	4×1 = 4	Understanding										

<p><b>5</b></p>	<p>Very Short Answer: Do as directed: (a) Write the expanded form of the following: 120776 (b) Add the following: 34573 + 30013 + 7887 (c) Find the difference: 591180 – 176969 (d) Multiply the following numbers: 7613 × 8 (e) Divide the following: 3064 ÷ 9</p>	<p><b>5×1 = 5</b></p>	<p>Problem-Solving</p>
<p><b>6</b></p>	<p>Short Answer: Do as directed: (a) Estimate the sum by rounding off each number to the nearest tens. Then find the actual sum and verify your estimation: 92 and 65 (b) From the sum of 4573 and 2416, subtract 5935. (c) Frame one word problems with the following subtraction fact: 4809 – 283 = 4526 (d) Find the HCF: 12,18 (e) Find the LCM: 5,12,15</p>	<p><b>5×2 = 10</b></p>	<p>Critical Thinking</p>
<p><b>7</b></p>	<p>Read the word problems and solve: (a) The product of two numbers is 1820. If one number is 35, what is the other number?  (b) If 23 shirts costs Rs.8832, what is the cost of each shirt?  (c) A CD player costs Rs. 2405. How much will 104 CD players cost?</p>	<p><b>3×3 = 9</b></p>	<p>Critical Thinking</p>



**ARMY PUBLIC SCHOOL GWALIOR**  
**CLASS - IV**  
**ACADEMIC SESSION 2023-24**  
**REVISION WORKSHEET (SELF –ASSESSMENT)**

**Subject: EVS**

**Assignment No. : 4**

**Allotment Date: 12 September 2023**

S. NO.	QUESTIONS	MARKS	NATURE										
Q1	<p><b>Choose the correct option.</b></p> <p>i. It is not an outdoor game.            a. Football    b Hockey    c. Ludo</p> <p>ii. _____ give birth to their young ones.            a. Insects            b. Reptiles            c. Mammals</p>	2x1=2	Information										
Q2	<p><b>Match the following.</b></p> <table style="width: 100%; border: none;"> <tr> <td style="width: 50%;">A</td> <td style="width: 50%;">B</td> </tr> <tr> <td>a. Birds</td> <td>i. Team spirit</td> </tr> <tr> <td>b. Monkeys</td> <td>ii. Skin</td> </tr> <tr> <td>c. Eliminates sweat</td> <td>iii. Egg</td> </tr> <tr> <td>d. Sports</td> <td>iv. Troop</td> </tr> </table>	A	B	a. Birds	i. Team spirit	b. Monkeys	ii. Skin	c. Eliminates sweat	iii. Egg	d. Sports	iv. Troop	4x1=4	
A	B												
a. Birds	i. Team spirit												
b. Monkeys	ii. Skin												
c. Eliminates sweat	iii. Egg												
d. Sports	iv. Troop												
Q3	<p><b>Give one word of the following.</b></p> <p>i. Group of birds -----</p> <p>ii. Only one set of parents and siblings are there in this type of family. _____</p>	2x1=2											
Q4	<p><b>State, whether 'True' Or 'False'.</b></p> <p>i. Fried foods are nutritious. [    ]</p> <p>ii. Lame people use prosthetic limbs to move around. [    ]</p>	2x1=2											
Q5	<p><b>Give example for the following.</b></p> <p>i. Dairy product. -----</p> <p>ii. The master organ of our body -----</p>	2x1=2											
Q6	<p><b>Choose the odd one out.</b></p> <p>i. Lungs, Stomach, Windpipe, Nose</p> <p>ii Chess, Ludo, Carrom, Volleyball</p>	2x1=2											

<p><b>Q7</b></p>	<p><b>Fill in the blanks.</b></p> <p>i. The largest internal organ is -----.</p> <p>ii. The _____ pumps blood and sends it to all parts of the body.</p>	<p><b>2X1=2</b></p>	<p>Understanding</p>
<p><b>Q8</b></p>	<p><b>Give reason for the following.</b></p> <p>i. Mid- day meal is very important.</p> <p>_____</p> <p>ii. Blind people cannot use sign language.</p> <p>_____</p>	<p><b>2X1=2</b></p>	<p>HOT</p>
<p><b>Q9</b></p>	<p>i. Draw a neat diagram of parts of teeth.</p> <p>_____</p> <p>_____</p> <p>_____</p>	<p><b>1x2=2</b></p>	
<p><b>Q10</b></p>	<p><b>Answer the following question in short.</b></p> <p>i. What is an occupation?</p> <p>_____</p> <p>_____</p> <p>ii. Why do animals live in groups?</p> <p>_____</p> <p>_____</p>	<p><b>2x2=4</b></p>	
<p><b>Q11</b></p>	<p><b>Answer the following question in detail.</b></p> <p>i. What is langar? Who started this tradition?</p> <p>_____</p> <p>_____</p>	<p><b>7x2=14</b></p>	
	<p>ii. Write any two differences between aquatic and amphibians.</p> <p>_____</p> <p>_____</p> <p>iii. Write any two differences between wading and swimming</p>		<p>Analytical Skill</p>

	<p>birds.</p> <hr/> <hr/> <hr/> <p>iv. Why should we eat a balanced diet daily?</p> <hr/> <hr/> <p>v. We have 4 incisors+2 canines+4 premolars+6 molars=16 teeth in our upper jaw. Arrange them in a pie diagram.</p> <hr/> <hr/> <hr/>		
	<p>vi. Describe different types of body covering.</p> <hr/> <hr/> <hr/> <hr/> <p>vii. Why should we choose our occupation carefully?</p> <hr/> <hr/>		Evaluation
<p><b>Q 13.</b></p>	<p>Choose the correct option.</p> <p>i. The largest continent is-----</p> <p>a. Asia            b Europe            c. Australia</p> <p>ii How many oceans are there in the world?</p> <p>a. Five            b. Eight            c. Six</p> <p>iii. Which country is not a neighbour of India?</p> <p>a. Sri Lanka    b. Nepal            c. France            d. Bhutan</p> <p>iv. Locate Himachal Pradesh in political map of India.</p> <hr/>	<p><b>4x0.5=2</b></p>	<p>Geographical Awareness</p>





**ARMY PUBLIC SCHOOL GWALIOR**  
**CLASS - IV**  
**ACADEMIC SESSION 2023-24**  
**REVISION WORKSHEET (SELF –ASSESSMENT)**

**Subject: G.K**

**Assignment No. : 4**

**Allotment Date: 12 September 2023**

S.NO	QUESTIONS	MARKS	SKILLS
1.	<p><b>Answer the following in one-word:</b></p> <p>(a) _____ is a Land of White Elephants.</p> <p>(b) _____ is the largest of all lizard species that grows up in 3 metres in length.</p> <p>(c) _____ is the main organ of nervous system.</p> <p>(d) _____ is world's largest continent.</p> <p>(e) _____ was popularly known as Punjab Kesari.</p>	5	<b>Informative and general awareness</b>
2.	<p><b>Identify the following pictures.</b></p>  <p>(a) _____</p>  <p>(b) _____</p>	5	<b>Identification and general awareness</b>




(c) \_\_\_\_\_



(d) \_\_\_\_\_



(e) \_\_\_\_\_



**ARMY PUBLIC SCHOOL GWALIOR**  
**CLASS - IV**  
**ACADEMIC SESSION 2023-24**  
**REVISION WORKSHEET (SELF –ASSESSMENT)**

Subject: Computer

Assignment No. : 4

Allotment Date: 12 September 2023

S.NO.	QUESTIONS	MARKS	NATURE
1.	<p>Tick the correct answer:</p> <ol style="list-style-type: none"><li>A presentation program developed by Microsoft is _____.<ol style="list-style-type: none"><li>Word</li><li>Paint</li><li>PowerPoint</li></ol></li><li>There are _____ main views of the presentation.<ol style="list-style-type: none"><li>Five</li><li>Four</li><li>Six</li></ol></li><li>_____ is a volatile memory.<ol style="list-style-type: none"><li>Hard Disk</li><li>RAM</li><li>ROM</li></ol></li><li>_____ text means adjusting the text around the images accordingly.<ol style="list-style-type: none"><li>Inserting</li><li>Wrapping</li><li>Review</li></ol></li><li>The final screen of Windows is known as _____.<ol style="list-style-type: none"><li>Taskbar</li><li>Pointer</li><li>Desktop</li></ol></li></ol>	0.5X5=2.5	Information
2.	<p>Write 'T' for True and 'F' for False statements.</p> <ol style="list-style-type: none"><li>A group of slides on any one topic is called a presentation.</li><li>Motherboard is also known as system board.</li><li>Copying removes the text from its original location.</li><li>Booting is the process of starting and restarting a computer.</li><li>We can adjust the volume of audio in the computer.</li></ol>	0.5X5=2.5	Interdisciplinary
3.	<p>Fill in the blanks.</p> <ol style="list-style-type: none"><li>The default extension of PowerPoint 2016 file is _____.</li><li>_____ port is used to connect the Internet and network cable.</li><li>_____ a text means the text disappears from its original location.</li><li>_____ or the Task View is used to switch between the running apps.</li></ol>	0.5X4=2	Analytical  Skill
4.	<p>Answer the following :-</p> <ol style="list-style-type: none"><li>What is the use of PowerPoint?</li><li>What are the different text alignment options in Word?</li><li>Name the different ways to set positioning of wallpaper on desktop.</li></ol>	1X3=3	Analytical  Skill